

eclass4U

ΥΠΗΡΕΣΙΕΣ ΨΗΦΙΑΚΗΣ ΕΚΠΑΙΔΕΥΣΗΣ

ΔΕΘ34

ΜΑΚΡΟΟΙΚΟΝΟΜΙΚΗ

ΜΑΘΗΜΑ 5

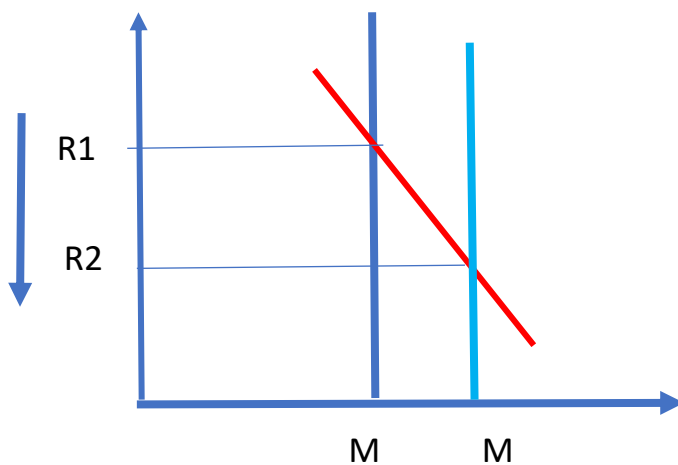
MULTIPLE CHOICE

IS-LM

1) Αν η Κεντρική τράπεζά αυξήσει τη προσφορά χρήματος τότε *ceteris paribus* η Ζήτηση Χρήματος θα (A)..... Και το ονομαστικό επιτόκιο θα είναι (B).....

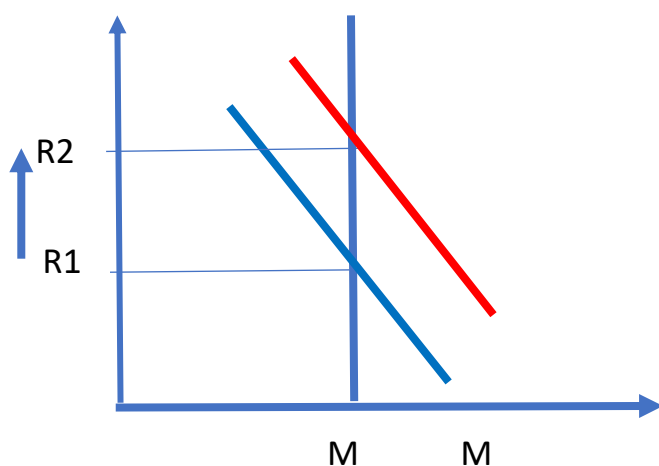
1. A) θα παραμείνει αμετάβλητη , B)μειωθεί
2. A) Αυξηθεί , B) μειωθεί
3. A) παραμένει αμετάβλητη , B) αυξηθεί
4. A) Αυξηθεί B) αυξηθεί

Λύση ΣΩΣΤΟ ΤΟ Α



2) Μια αύξηση στο εισόδημα αυξάνει 1).....Χρήματος και 2) το επιτόκιο στο σημείο ισορροπίας τότε ceteris paribus.

1. Ζήτηση αυξάνει 3. Προσφορά αυξάνει
2. Ζήτηση μειώνει 4. Προσφορά μειώνει



$$M_d = k_0 + kY + l_0 - l * r \text{ Σωστό το A}$$

3) Μια αύξηση των δημοσίων δαπανών στο μοντέλο IS-LM θα μετατοπίσει

- A) την καμπύλη IS δεξιά B) την καμπύλη IS αριστερά
Γ) την καμπύλη LM αριστερά Δ) την καμπύλη LM Δεξιά

Σωστό το A

4) Η καμπύλη IS έχει αρνητική κλίση γιατί έχει αρνητική σχέση με το επιτόκιο

A) η κατανάλωση

B) η επένδυση

Γ) η ζήτηση χρήματος

Δ) η προσφορά χρήματος

Σωστό το β

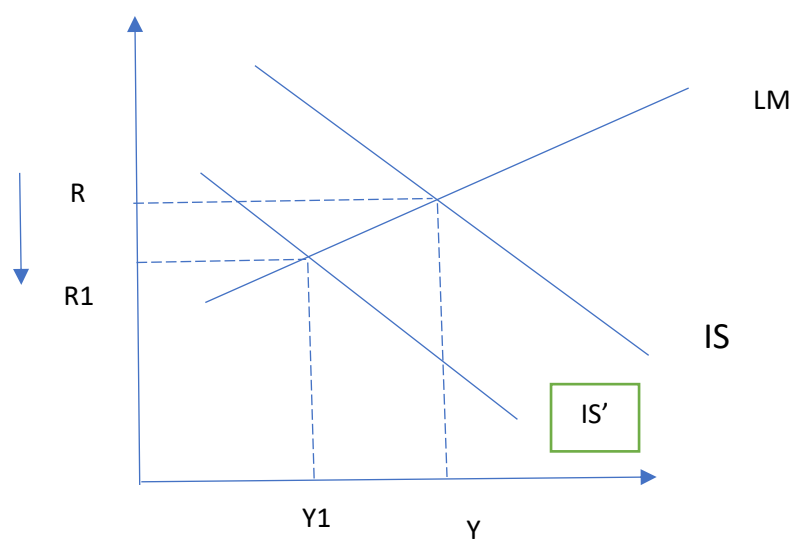
Μια αύξηση των φορών στο μοντέλο IS-LM θα μετατοπίσει

A) την καμπύλη IS δεξιά

Γ) την καμπύλη LM αριστερά

B) την καμπύλη IS αριστερά

Δ) την καμπύλη LM Δεξιά



ΣΩΣΤΟ ΤΟ Β

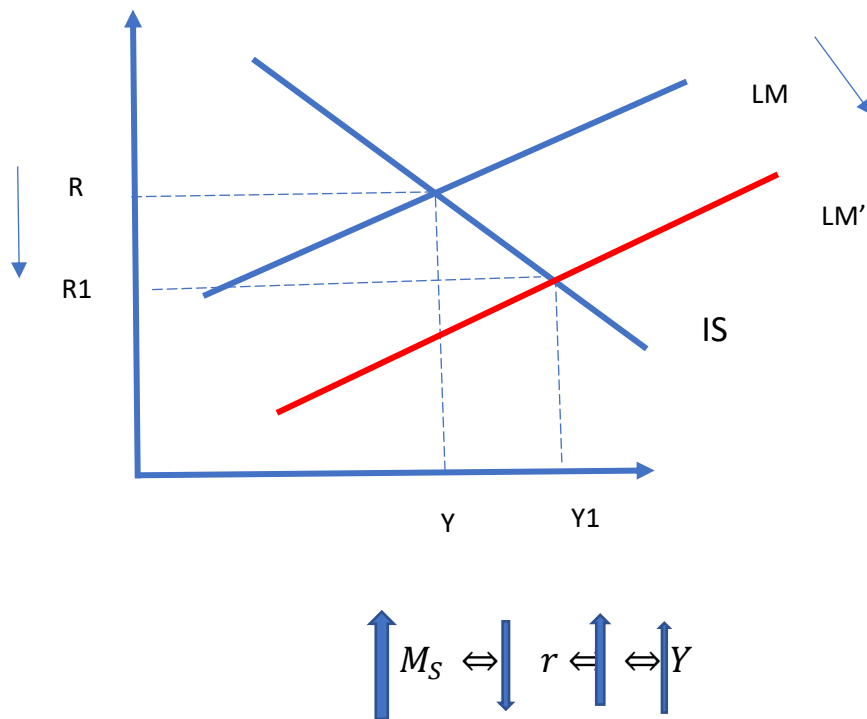
5) Στο μοντέλο IS-LM η αύξηση της ονομαστικής προσφοράς χρήματος οδηγεί σε αύξηση του εισοδήματος της οικονομίας μέσω :

A) αύξηση της προσφοράς χρήματος και αύξηση της κατανάλωσης

B) αύξηση της ζήτησης χρήματος και αύξηση της κατανάλωσης

Γ) μείωση του επιτοκίου και αύξηση της επένδυσης

Δ) αύξηση του επιτοκίου και μείωση της επένδυσης



ΣΩΣΤΟ ΤΟ Γ

6) Για ποιο από τα παρακάτω η LM δεν μετατοπίζεται δεξιά

A) μείωση του επιπέδου τιμών

B) αύξηση της ονομαστικής προσφοράς χρήματος

Γ) μείωση της αυτόνομης ζήτησης χρήματος αυτής που δεν εξαρτάται από το εισόδημα και το επιτόκιο.

Δ) ,μείωση του επιτοκίου και αύξηση της ζήτησης χρήματος για κερδοσκοπικούς σκοπούς .

ΣΩΣΤΟ ΤΟ Δ

7) Στο μοντέλο IS-LM μια αύξηση του επιπέδου τιμών αναμένεται να

A) να μειώσει την επενδυτική ζήτησή και το εισόδημα της οικονομίας

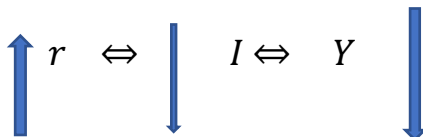
B) να αύξηση την επενδυτική ζήτησή και το εισόδημα της οικονομίας

Γ) να αύξηση την επενδυτική ζήτησή και να μειώσει εισόδημα της οικονομίας

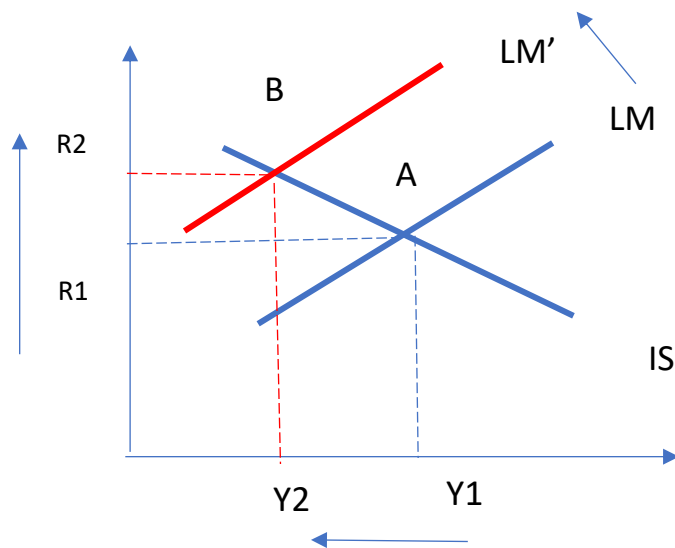
Δ) να μειώσει την επενδυτική ζήτησή και να αυξήσει εισόδημα της οικονομίας,

ΛΥΣΗ

Η ΑΥΞΗΣΗ ΤΗΣ ΤΙΜΗΣ ΜΕΤΑΤΟΠΙΖΕΙ ΤΗΝ LM ΑΡΙΣΤΕΡΑ



ΣΩΣΤΟ ΤΟ Α



8) Για ποιο από τα παρακάτω η IS δεν μετατοπίζεται δεξιά

A) αύξησή των κρατικών δαπανών

B) αύξησή των εξαγωγών

Γ) αύξησή των εισαγωγών

Δ) μείωση των φόρων

ΣΩΣΤΟ ΤΟ Γ

9) Υποθέστε ότι η συνάρτηση αποταμίευσης είναι $S = -100 + 0,4Y_d$

Εάν η επιθυμητή επένδυση είναι $I = 100 - 10r$, ενώ οι φόροι είναι 100 και οι κρατικές δαπάνες 200. Επίσης γνωρίζουμε ότι η συνάρτηση LM είναι $Y = 250 + 5r$, σε αυτή τη περίπτωση το επιτόκιο ισορροπίας είναι

A) 5

β) 10

γ) 15

δ) 20

$$S + (T - G) = I \Leftrightarrow$$

$$-100 + 0,4(Y - 100) + 100 - 200 = 100 - 10r$$

$$\Leftrightarrow -100 + 0,4Y - 40 + 100 - 200 = 100 - 10r \Leftrightarrow$$

$$\Leftrightarrow -240 + 0,4Y = 100 - 10r \Leftrightarrow 0,4Y = 340 - 10r \Leftrightarrow Y = 850 - 25r$$

ΣΤΗΝ ΙΣΟΡΡΟΠΙΑ $IS=LM$

$$850 - 25r = 250 + 5r \Leftrightarrow 30r = 600 \Leftrightarrow r = \frac{600}{30} \Leftrightarrow r = 20$$

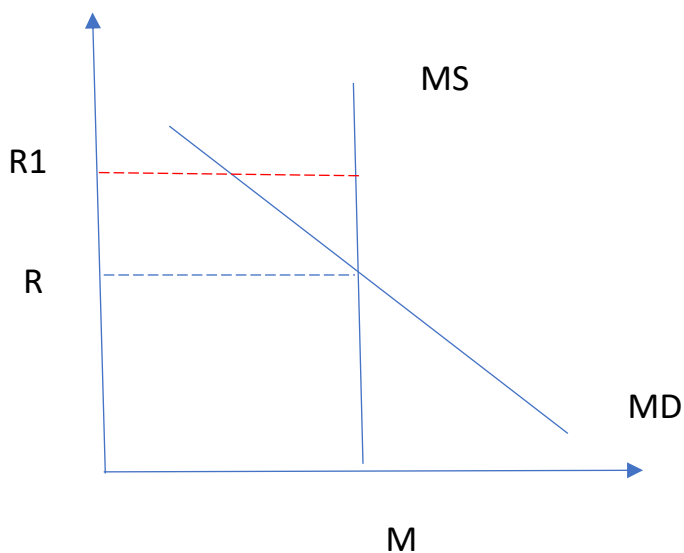
10) Για κάθε επιτόκιο πάνω από το επιτόκιο ισορροπίας

A) η ζητούμενη ποσότητα χρήματος είναι μεγαλύτερη από τη προσφερόμενη ποσότητα χρήματος

B) Η προσφερόμενη ποσότητα χρήματος είναι μεγαλύτερη από τη ζητούμενη ποσότητα χρήματος.

Γ) η προσφορά χρήματος αυξάνεται

Δ) η ζήτηση χρήματος αυξάνεται



ΣΩΣΤΟ ΤΟ Β