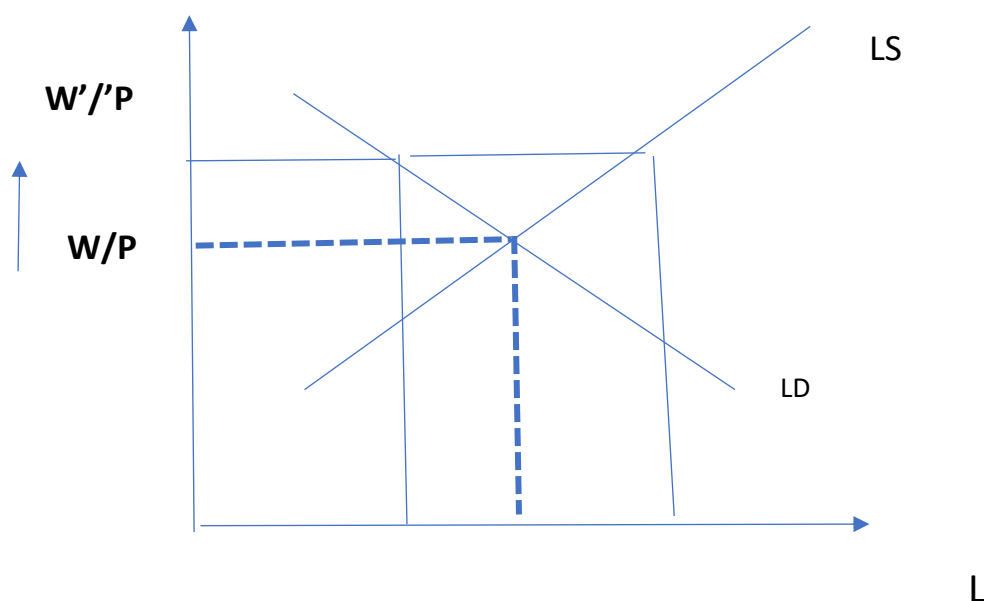


ΔΕΟ34- ΜΑΚΡΟΟΙΚΟΝΟΜΙΚΗ

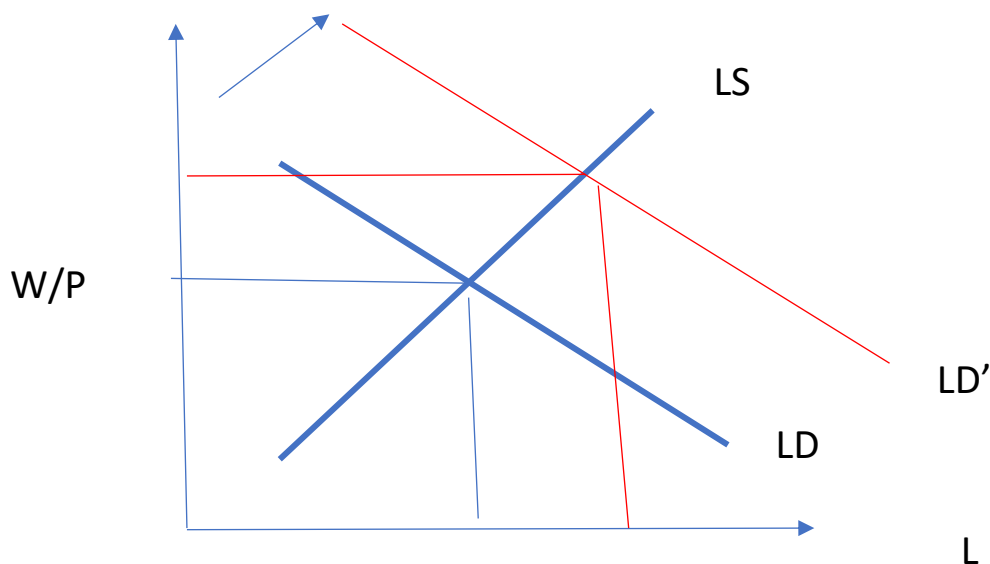


ΠΟΛΛΑΠΛΗΣ ΣΕ ΑΓΟΡΑ ΕΡΓΑΣΙΑΣ ΚΑΙ ΣΥΝΟΛΙΚΗ ΖΗΤΗΣΗ ΚΑΙ ΠΡΟΣΦΟΡΑ

- 1) Μια αύξηση του πραγματικού μισθού θα :
- μετακινήσει την καμπύλη ζήτησης προς τα αριστερά
 - μετακινήσει την καμπύλη ζήτησης προς τα δεξιά
 - μειώσει την ζητούμενη ποσότητα εργασίας κατά μήκος της καμπύλης ζήτησης
 - μειώσει την προσφερόμενη ποσότητα εργασίας



- 2) Η αύξηση του οριακού προϊόντος της εργασίας θα
- A) μετατοπίσει την καμπύλη ζήτησης προς τα δεξιά
 - B) μετατοπίσει την καμπύλη ζήτησης προς τα αριστερά
 - Γ) αυξήσει την ζητούμενη ποσότητα εργασίας κατά μήκος της καμπύλης ζήτησης
 - Δ) μετατοπίζει τη καμπύλη προσφοράς εργασίας προς τα δεξιά



3) Εάν συμβολίζουμε με w εργατικό μισθό και με MP_L το οριακό προϊόν της εργασίας και με το P το επίπεδο τιμών. Η ποσότητα της εργασίας που μεγιστοποιεί το κέρδος της επιχείρησης βρίσκεται από την εξίσωση

A) $w = MP_L$

C) $\frac{P}{W} = MP_L$

b) $\frac{w}{MP_L} = P$

D) $P * W = MP_L$

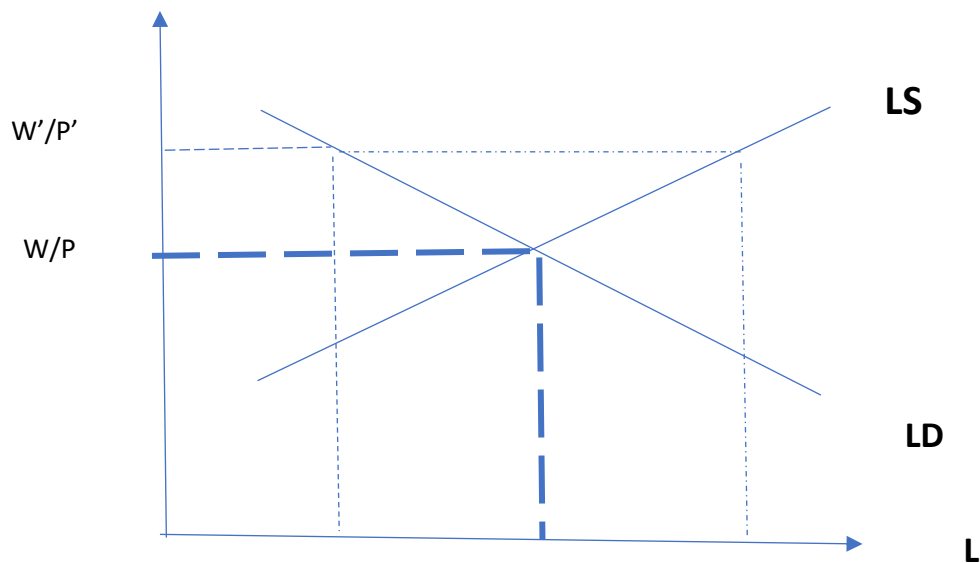
4) Όταν ο πραγματικός μισθός είναι υψηλότερος από τον πραγματικό μισθό ισορροπίας τότε"

A) τότε υπάρχει υπερβάλλουσα προσφορά εργασίας και πρέπει να μειωθεί ο μισθός ή να αυξηθούν οι τιμές προκειμένου να αποκατασταθεί η ισορροπία.

B) τότε υπάρχει υπερβάλλουσα ζήτηση εργασίας και πρέπει να αυξηθεί ο μισθός ή να μειωθούν οι τιμές προκειμένου να αποκατασταθεί η ισορροπία.

Γ) τότε υπάρχει υπερβάλλουσα προσφορά εργασίας και πρέπει να μειωθεί ο μισθός ή να μειωθούν οι τιμές προκειμένου να αποκατασταθεί η ισορροπία.

Δ) τότε υπάρχει υπερβάλλουσα ζήτηση εργασίας και πρέπει να μειωθεί ο μισθός ή να αυξηθούν οι τιμές προκειμένου να αποκατασταθεί η ισορροπία.



5) Εάν ο ονομαστικός μισθός είναι $w=130$, και $P=10$ ισχύουν τα παρακάτω δεδομένα για τη παραγωγή του προϊόντος τότε η ζητούμενη ποσότητα εργασίας προκειμένου η επιχείρηση να μεγιστοποιήσει τα κέρδη της είναι

Εργασία	Συνολικό προϊόν	Οριακό προϊόν	Αξία οριακού προϊόντος
1	17	17	170
2	32	15	150
3	45	13	130
4	56	11	110

- A) 5 μονάδες εργασίας
- B) 4 μονάδες εργασίας
- Γ) 3 μονάδες εργασίας
- Δ) 2 μονάδες εργασίας

$$\frac{W}{P} = MP_L \Leftrightarrow P * MP_L = W$$

6) Η καμπύλη συνολικής ζήτησης συνοψίζει

- A) την ταυτόχρονη ισορροπία στην αγορά προϊόντος και την αγορά χρήματος
- B) την ταυτόχρονη ισορροπία στην αγορά προϊόντος και την αγορά εργασίας
- Γ) την ισορροπία στην αγορά εργασίας
- Δ) την ισορροπία στην αγορά προϊόντος

7) Η καμπύλη συνολικής προσφοράς συνοψίζει

- A) την ταυτόχρονη ισορροπία στην αγορά προϊόντος και την αγορά χρήματος
- B) την ταυτόχρονη ισορροπία στην αγορά προϊόντος και την αγορά εργασίας
- Γ) την ισορροπία στην αγορά εργασίας
- Δ) την ισορροπία στην αγορά προϊόντος

8) Η Καμπύλη συνολικής προσφοράς είναι τελείως κάθετη

- A) Στο εισόδημα πλήρους απασχόλησης
- B) όταν υπάρχει πλήρης ευκαμψία μισθών
- Γ) στη μακροχρόνια ,περίοδο κατά το κλασικό υπόδειγμα
- Δ) όλα τα παραπάνω.

9) Η καμπύλη συνολικής προσφοράς θα μετατοπισθεί προς τα δεξιά για όλους τους παρακάτω λόγους εκτός από

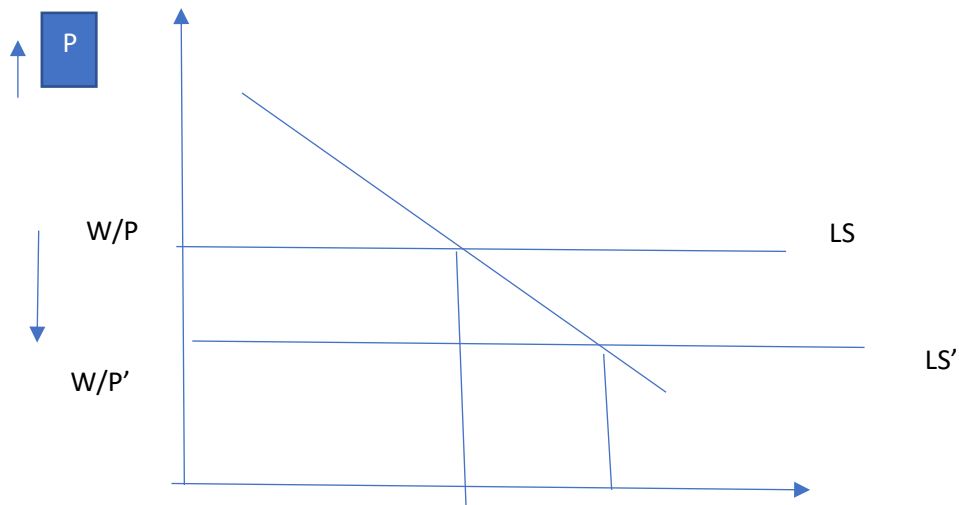
- A) αύξηση του εργατικού δυναμικού
- B) βελτίωση της τεχνολογίας παραγωγής
- Γ) αύξηση της ποσότητας παραγωγικών συντελεστών
- Δ) αύξηση του ονομαστικού μισθού

10) Στο κευνσιανό υπόδειγμα τι από τα παρακάτω δεν ισχύει

- A) η καμπύλη προσφοράς έχει θετική κλίση
- B) υπάρχει ανεργία
- Γ) υπάρχει ευκαμψία μισθών
- Δ) υπάρχει ευκαμψία τιμών

11) Σύμφωνα με την Κευνσιανή θεωρία κατά την ισορροπία στην αγορά εργασίας ποιο από τα παρακάτω δεν ισχύει

- A) υπάρχει ανεργία
- B) υπάρχει πλήρης ευκαμψία ονομαστικών μισθών
- Γ) υπάρχει ευκαμψία πραγματικών μισθών
- Δ) η καμπύλη προσφοράς εργασίας είναι απείρως ελαστική



12) Σύμφωνα με τη κλασική θεωρία κατά την ισορροπία στην αγορά εργασίας ποιο από τα παρακάτω δεν ισχύει

- A) υπάρχει ανεργία
- B) υπάρχει πλήρης ευκαμψία ονομαστικών μισθών
- Γ) η καμπύλη ζήτησης εργασίας έχει αρνητική κλίση
- Δ) η καμπύλη προσφοράς έχει θετική κλίση

Σωστό το Α

ΑΠΑΝΤΗΣΕΙΣ

1	2	3	4	5	6	7	8	9	10	11	12
Γ	A	B	A	Γ	A	Γ	Δ	Δ	Γ	B	A